



Yağmur, kar, sis, dolu, rüzgâr, fırtına hava olaylarıdır. Doğa ve canlılar yaşaması için bunlara ihtiyaç duyar. Özellikle yağmur, bitkiler ve hayvanlar için yaşam kaynağıdır. Hava olaylarının yararları kadar zararları da vardır. Hava olayları mevsimlere göre değişiklik gösterebilir.



İlkbahar Mevsimi: (Mart, Nisan, Mayıs)

Havalar ısınmaya başlar. Ağaçlar çiçek ve yaprak açmaya başlar. Göçmen kuşlar ülkemize gelirler. Doğa yeşillenmeye, canlanmaya başlar. Kışlık kalın elbiseler yerine biraz ince elbiseler giyeriz. Havalar yağmurlu geçer. Kış uykusuna yatan hayvanlar uyanır.

Yaz Mevsimi: (Haziran, Temmuz, Ağustos) Havalar çok sıcaktır. Ağaçlar yemyeşil, meyveler doludur. Armut, şeftali, kiraz, karpuz, çilek, üzüm bol olur. İnsanlar kısa kollu ve ince elbiseler giyer. Denize gireriz. Okullar tatil olur.



Sonbahar Mevsimi: (Eylül, Ekim, Kasım)



Havalar soğumaya başlar. Ağaçların yaprakları sararmaya ve dökülmeye başlar. Havalar rüzgârlı ve yağmurludur. Göçmen kuşlar (leylek, kırlangıç) sıcak ülkelere doğru göç ederler. İnsanlar kalın elbiseler giymeye başlarlar.

Kış Mevsimi: (Aralık, Ocak, Şubat)

Havalar çok soğuktur. Kar yağar. Çok kalın elbiselerimizi (kazak, eldiven, şapka, bot, mont) giyeriz. Isınmak için ısıtıcı (soba, doğalgaz, klima gibi) yakarız. Geceler çok uzun sürer. Ayı, yılan, kurbağa gibi hayvanlar kış uykusuna yatarlar.



Etkinlik-1 ➔ *Hava olaylarının isimlerini yazınız.*



.....

.....

.....

.....

.....

Etkinlik-2 ➔ *Hava olaylarının isimlerini yazınız.*

Yollar ve kaldırımlar donar.

Önümüzü görmekte zorlanırsınız.

Ağaçların dalları kırılır.

Arabaların camları kırılır.

Yollar ve kaldırımlar ıslanır.

Çatılarda sarkıt oluşur.

Çatılardan bir şeyler düşer.

Taşıtlar üzerimize su sıçratır.

Rüzgarlı

Karlı

Sisli

Dolu

Yağmurlu

Etkinlik-3 ➔ *Hava olaylarının oluş biçimlerine göre yazınız.*

Bulutların su buharıyla
ağırlaşması ve yeryüzüne
inmesiyleoluşur.

Sıcak hava ile soğuk havanın
karşılaşması ve yer değiştirmeleri
sonundaoluşur

Su buharlarının bulutlarda donarak
buz parçaları biçinde yağmasıyla
..... oluşur.

Bulutlardaki su buharının su
damlacıklar halinde yere düşmesiyle
.....oluşur.

Etkinlik-4 ➡ *Mevsimlerin isimlerini yazınız.*



Etkinlik-5 ➡ *Çocukların hangi mevsimlere göre giyindiğini yazınız.*




Etkinlik-6 ➡ *Ağaçların durumlarına göre mevsimleri yazınız.*




Etkinlik-7 ➡ *Görsellerin hangi mevsimi ifade ettiğini yazınız.*



Etkinlik-8 ➡ *Mevsimlerin aylarını yazınız.*



Etkinlik-9 ➡ *Kıyafetleri hangi mevsimde giydiğimizi yazınız.*



Etkinlik-10 ➡ *Meyve ve sebzelerin hangi mevsime ait olduğunu yazınız.*



.....

.....

.....

.....

.....



.....

.....

.....
















.....

.....

Etkinlik-11 → Olayların hangi mevsimlere ait olduğunu yazınız.

Kısa kollu ve ince kıyafetler giyeriz.	
Ağaçların yaprakları sararır ve dökülmeye başlar.	
Göçmen kuşlar ülkemize gelmeye başlar.	
Ayı, yılan, kurbağa gibi hayvanlar uykuya yatarlar.	
Havalar soğur ve kar yağmaya başlar.	
Ağaçların yaprakları çıkar ve çiçek açmaya başlar.	
Havalar ısınmaya başlar, kalın elbiselerimizi çıkarırız.	
Yağmur, rüzgâr ve fırtına gibi hava olayları görülür.	
Pazarlarda kiraz, üzüm, incir gibi meyveler satılır.	
Ocak ayının sonunda okullar yarıyıl tatiline girer.	

Etkinlik-12 → Bir haftalık hava durumuna göre soruları cevaplayınız.

	PAZARTESİ	SALI	ÇARŞAMBA	PERŞEMBE	CUMA
SABAHA					
ÖĞLE					
AKŞAM					

Güneşli günler

Yağmurlu günler

Bulutlu günler

En sıcak gün

En soğuk gün

Salı günü akşam

Perşembe günü öğle

Cuma günü sabah

Fırtınalı günün zamanı

Etkinlik-13 ➡ *Doğru mu? Yanlış mı? Doğru ise D, yanlış ise Y yazınız.*

- (....) Yağmur, kar, dolu, rüzgar gibi hava olayları insan yaşamını etkiler.
- (....) İlkbahar ve sonbahar mevsimleri en çok yağmur yağan mevsimlerdir.
- (....) Okullar sonbahar mevsiminde açılır, yaz mevsiminde kapanır.
- (....) En sıcak mevsim yaz iken en soğuk mevsim sonbahardır.
- (....) Ocak, şubat, mart ayları kış mevsiminin aylarıdır.
- (....) Yaz mevsiminde en çok yaşanan hava durumu güneşli günlerdir.
- (....) Yaz gelince havalar ısınır. Bu nedenle daha kalın kıyafetler gerekir.
- (....) Gün içinde hava bazen yağmurlu bazen güneşli olabilir.
- (....) Öğle vakti sabah ve akşam vaktinden daha sıcak olur.
- (....) Bir yılda mevsimler bitince aylar başlar.

Etkinlik-14 ➡ *Boşlukları dolduralım.*

ilkbahar	yağmur	fırtına	yaz	sonbahar
el feneri	göçmen	uykuya	kış	kaygan

- 1- Eylül, ekim ve kasım aylarımevsimin aylarıdır.
- 2-gelince ağaçların yaprakları çıkar, çiçekler açmaya başlar.
- 3- Şiddetli rüzgâr ve çevremizde yıkıma neden olabilir.
- 4- İlkbaharda kuşlar geri gelir.
- 5- Bulutlardaki su buharının su damlacıklar halinde yere düşmesiyleoluşur
- 6- Yağışlı, karlı havalarda yollar ve kaldırımlar olur.
- 7- Sisli havalarda başkalarının bizi görmeleri içinkullanmalıyız.
- 8- Evlerimizi ısıtmak için soba ve kaloriferler mevsiminde yakılır.
- 9- Ayı, yılan, arı gibi hayvanlar kış gelince yatarlar.
- 10-mevsimi gelince denize girer yüzeriz.

Etkinlik-15 → Sorulara göre doğru seçeneği işaretleyiniz.




1 Görseldeki çocuklar yılın hangi ayında olabilirler?

- A) Ocak veya şubat
B) Eylül veya ekim
C) Mayıs veya haziran



1 Görseldeki çocukların yaşadığı mevsime göre hangisi söylenemez?

- A) Hava soğumaya başlamıştır.
B) Göçmen kuşlar gelmeye başlamıştır.
C) Ağaçların yaprakları sararmaya ve dökülmeye başlamıştır.



1 Pazarlarda en çok satılan meyveler yukarıda verilmiştir. Bu durumda hangi mevsim yaşanmaktadır?

- A) Yaz B) İlkbahar C) Kış

- ☀ Eylül ayında okullar açılır.
☾ Ocak ayında okullar yarıyıl tatiline girer.
☀ Haziran ayında okullar tatil olur.

1 Yukarıda verilen olaylar hangi mevsimlerde yaşanmaktadır?



A)	İlkbahar	Sonbahar	Yaz
B)	Sonbahar	Yaz	İlkbahar
C)	Sonbahar	Kış	Yaz

..... denilince
aklına geliyor?



Çiçek, yeşil
yapraklar, havaların
ısınmaları...



1 Yukarıdaki görsele erkek çocuğun konuşmasında boşluğa hangisi yazılmalıdır?

- A) Yaz B) İlkbahar C) Sonbahar

1	Fırtına	4	Dolu
2	Kar	5	Sis
3	Yağmur	6	Rüzgar

1 Yukarıda verilen hava olayların hangisinde dışarı çıkıp oynamak tehlikelidir?

- A) 1-4 B) 2-3 C) 5-6

Etkinlik-16 → *Dikkatli okuyup cevaplandıralım.*



Merhaba. Benim adım Ayten.
Antalya'dayım. Bugün evlerin
çatıları uçtu. Ağaçlar kırıldı. Çok
kötü bir gündü.

Ben Fatma. Konya'dayım. Bugün çok
eğlendik. Eldivenimi giyip dışarı
çıktım. Her yer bembeyazdı. Ama
hava soğuktu.



Benim başıma çok kötü bir şey
geldi. Okula giderken bir araba
yolda üzerime su sıçrattı. Her
yer ıslanmıştı. Rize'de hep böyle
oluyor.

Babam bugün çok üzgün geldi. Çünkü
yolda gelirken bir şeyler yağmış ve
arabanın camları kırılmış. İzmir'de
birçok arabanın camları kırılmış.



**Yukarıdaki bilgilere göre hangi
bilgi yanlıştır?**

- A** Rize'de çok yağmur yağmış.
- B** Konya'da hava çok güneşliydi.
- C** İzmir'de dolu yağmış.
- D** Antalya'da fırtına vardı.

Televizyonda bir sunucu hava durumunu
anlatıyordu. Sunucu vatandaşları nasıl
davranması gerektiği uyarıyordu. Ali de
dikkatli dinliyordu. Çünkü yarın piknik
yapmaya gideceklerdi.

Erzurum : Yarın hava çok soğuk olacak.
Yollar buz tutacak. Kayarak düşmeyin.

İstanbul : Yarın dışarı çıkarken mutlaka
şemsiyenizi alın. Uzun çizmelerinizi giyiniz.
Ağaçlardan uza durunuz.

Ankara : Yarın araba kullananlar dikkatli
gitsinler. Farlarını sürekli açsınlar. Görüş
mesafesi çok düşecek. Yayalar ise el
fenerlerini almayı unutmasınlar.

Bursa : Yarın kaldırımında yürürken dikkatli
gidin. Çatılardan ya da balkonlardan
kafanıza bir şey düşebilir.

**Sunucunun anlattığına göre yarın
için hangi şehirde hava durumu
doğru yazılmıştır?**

- A** Bursa = Yağmurlu
- B** Erzurum = Fırtınalı
- C** Ankara = Sisli
- D** İstanbul = Karlı